



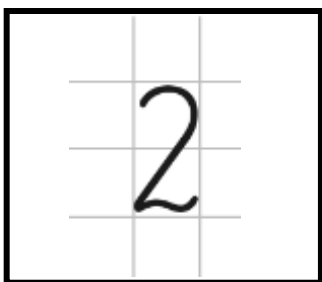


Projekt współfinansowany przez Unię Europejską w ramach Europejskiego Funduszu Społecznego.

## Karta pracy - Liczba 2

### Zadanie 1

Zaznacz ten kwadrat, w którym jest napisana prawidłowo liczba dwa . Wskaż również zbiór dwuelementowy.



Jak należy poprawić cyfrę w pierwszym kwadracie? Co należy zrobić, aby w trzecim kwadracie był zbiór dwuelementowy?

### Zadanie 2

Narysuj w każdym kwadracie tyle kółek ile wskazuje liczba.



**1**



**2**

### Zadanie 3

Dokończ pisać cyfry.

